

## Correction Centres Etrangers S 2018

### Exercice 1:

1)a)  $f(t) = (0,8t + 0,2)e^{-0,5t} + 0,03$

$f(20) = (0,8 \times 20 + 0,2)e^{-0,5 \times 20} + 0,03 \approx 0,031$

1)b) Taux Maximal pour  $t = 1,75$

$f(1,75) = (0,8 \times 1,75 + 0,2)e^{-0,5 \times 1,75} + 0,03 \approx 0,697$

Le taux maximal est de 69,7 %

2)a) Le taux de  $\text{CO}_2$  présent dans le local retrouve une valeur inférieure ou égale à 3,5 %

Objectif trouver  $t$  tel que  $f(t) \leq 0,035$

Tableau variations:

$x$	0	1,75	20
$f'(x)$	+	0	-
$f(x)$	0,23 ↗	0,697 ↘	0,031

Sur  $[0 ; 1,75]$  la fonction est continue et strictement croissante mais  $f(0) = 0,23 > 0,035$

L'équation  $f(t) = 0,035$  n'admet pas de solution sur  $[0 ; 1,75]$

Sur  $[1,75 ; 20]$  la fonction est continue et strictement décroissante et on a :  $\begin{cases} f(1,75) \approx 0,697 > 0,035 \\ f(20) \approx 0,031 < 0,035 \end{cases}$

D'après le corollaire du théorème des valeurs intermédiaires, il existe un unique  $\alpha \in ]1,75 ; 20[$  tel que  $f(\alpha) = 0,035$

2)b) A la calculatrice, on trouve:  $\begin{cases} f(15,65) \approx 0,0351 > 0,035 \\ f(15,75) \approx 0,0349 < 0,035 \end{cases}$

Donc il faut attendre 15 min 45 s e c pour obtenir un taux de  $\text{CO}_2$  inférieur ou égal à 3,5 %

3)a)  $F(t) = (-1,6t - 3,6) \times e^{-0,5t} + 0,03t$

La fonction  $F$  est dérivable sur  $[0 ; 20]$

$F'(t) = -1,6 \times e^{-0,5t} + (-1,6t - 3,6) \times (-0,5 \times e^{-0,5t}) + 0,03 = 0,8te^{-0,5t} + (1,8 - 1,6)e^{-0,5t} + 0,03$

$F'(t) = 0,8te^{-0,5t} + 0,2e^{-0,5t} + 0,03 = (0,8t + 0,2)e^{-0,5t} + 0,03 = f(t)$

Donc  $F$  est une primitive de  $f$ .

3)b)  $\mu = \frac{1}{b-a} \int_a^b f(t) dt = \frac{1}{11-0} \int_0^{11} f(t) dt = \frac{1}{11} [F(t)]_0^{11} = \frac{1}{11} (F(11) - F(0))$

$\mu \approx \frac{1}{11} (3,843) \approx 0,349$  (arrondi à  $10^{-3}$ )

### Exercice 2:

1) On détermine  $\lambda$ :

$E(D) = 8 = \frac{1}{\lambda} \Leftrightarrow \lambda = \frac{1}{8} = 0,125$

$D$  est une variable aléatoire suivant une loi exponentielle, celle-ci est sans mémoire donc:

$P_{D \geq 3}(D \geq 10) = P_{D \geq 3}(D \geq 3+7) = P(D \geq 7) = e^{-7\lambda} \approx 0,42$

**Affirmation vraie**

2) Soit  $X$  la variable aléatoire comptant le nombre de dépistages positifs.

On effectue 200 tirages indépendants, aléatoires et identiques.

Chaque tirage possède 2 issues :

- "le test est positif" dont la probabilité est  $p = 0,031$

- "le test est négatif" dont la probabilité est  $q = 1 - p = 0,969$

$X$  suit une loi binomiale de paramètres  $n = 200$  et  $p = 0,031$

A la calculatrice, on trouve:

$P(X > 5) = 1 - P(X \leq 5) \approx 0,49$

**Affirmation vraie**

3)  $\ln(6x-2) + \ln(2x-1) = \ln(x)$

$$\begin{cases} 6x-2 > 0 \\ 2x-1 > 0 \\ x > 0 \end{cases} \Leftrightarrow \begin{cases} x > \frac{2}{6} = \frac{1}{3} \\ x > \frac{1}{2} \\ x > 0 \end{cases}$$

Donc on peut résoudre l'équation que sur l'intervalle  $\left] \frac{1}{2} ; +\infty \right[$

$\ln(6x-2) + \ln(2x-1) = \ln(x) \Leftrightarrow \ln[(6x-2)(2x-1)] = \ln(x)$

$\ln(12x^2 - 10x + 2) = \ln(x)$

Ce qui équivaut à :

$12x^2 - 10x + 2 = x \Leftrightarrow 12x^2 - 11x + 2 = 0$

Le discriminant est:  $\Delta = b^2 - 4ac = (-11)^2 - 4 \times 12 \times 2 = 25 = 5^2 > 0$ , deux solutions réelles distinctes:

$x_1 = \frac{-b + \sqrt{\Delta}}{2a} = \frac{11+5}{24} = \frac{16}{24} = \frac{2}{3}$ , solution convient car  $x_1 \in \left] \frac{1}{2} ; +\infty \right[$

$x_2 = \frac{-b - \sqrt{\Delta}}{2a} = \frac{11-5}{24} = \frac{6}{24} = \frac{1}{4}$ , solution ne convient pas car  $x_2 \notin \left] \frac{1}{2} ; +\infty \right[$

L'équation admet une unique solution dans l'intervalle  $\left] \frac{1}{2} ; +\infty \right[$

**Affirmation fausse**

$$4) (4z^2 - 20z + 37)(2z - 7 + 2i) = 0$$

$$\begin{cases} 4z^2 - 20z + 37 = 0 \\ 2z - 7 + 2i = 0 \end{cases} \Leftrightarrow \begin{cases} \Delta = -192 < 0, z_1 = \frac{5}{2} + i\sqrt{3} \text{ et } z_2 = \frac{5}{2} - i\sqrt{3} \\ z_3 = \frac{7-2i}{2} = \frac{7}{2} - i \end{cases} \quad (\text{Deux racines complexes conjuguées})$$

$$\text{Les solutions sont } \begin{cases} z_1 = \frac{5}{2} + i\sqrt{3} \\ z_2 = \frac{5}{2} - i\sqrt{3} \\ z_3 = \frac{7}{2} - i \end{cases}$$

Vérifions que les solutions appartiennent au cercle de centre P d'affixe 2:

Soit les points A, B et C d'affixes respectives  $z_1$ ,  $z_2$  et  $z_3$

$$A P = |2 - z_1| = \left| 2 - \frac{5}{2} - i\sqrt{3} \right| = \left| -\frac{1}{2} - i\sqrt{3} \right| = \sqrt{\left(-\frac{1}{2}\right)^2 + (-\sqrt{3})^2} = \sqrt{\frac{1}{4} + 3} = \sqrt{\frac{13}{4}} = \frac{\sqrt{13}}{2}$$

$$B P = |2 - z_2| = \left| 2 - \frac{5}{2} + i\sqrt{3} \right| = \left| -\frac{1}{2} + i\sqrt{3} \right| = \sqrt{\left(-\frac{1}{2}\right)^2 + (\sqrt{3})^2} = \sqrt{\frac{1}{4} + 3} = \sqrt{\frac{13}{4}} = \frac{\sqrt{13}}{2}$$

$$C P = \left| 2 - \frac{7}{2} + i \right| = \left| -\frac{3}{2} + i \right| = \sqrt{\left(-\frac{3}{2}\right)^2 + 1} = \sqrt{\frac{9}{4} + 1} = \sqrt{\frac{13}{4}} = \frac{\sqrt{13}}{2}$$

Conclusion: Les points A, B et C appartiennent au cercle de centre P et de rayon  $R = \frac{\sqrt{13}}{2}$

**Affirmation vraie**

### Exercice 3:

#### Partie A:

1) Pour les melons du maraîcher A, on modélise la masse en gramme par une variable aléatoire  $M_A$  qui suit une loi uniforme sur l'intervalle  $[850; x]$ , où  $x$  est 1200.

Les melons sont qualifiés conformes si leur masse est comprise entre 900 g et 1200 g.

$$P(900 \leq M_A \leq 1200) = \frac{1200 - 900}{x - 850} = \frac{300}{x - 850} = 0,75 \quad (\text{car } 75 \% \text{ des melons du maraîcher A sont conformes})$$

$$\frac{300}{x - 850} = 0,75 \Leftrightarrow 300 = 0,75(x - 850) = 0,75x - 637,5 \Leftrightarrow 0,75x = 300 + 637,5 = 937,5$$

$$x = \frac{937,5}{0,75} = 1250$$

2) La masse en gramme des melons du maraîcher B est modélisée par une variable aléatoire  $M_B$  qui suit une loi normale de moyenne 1050 et d'écart-type inconnu

On pose  $Z = \frac{M_B - \mu}{\sigma} = \frac{M_B - 1050}{\sigma}$ ,  $Z$  suit une loi normale réduite centrée  $N(0; 1)$

$$P(900 \leq M_B \leq 1200) = 0,85 \quad (\text{car } 85 \% \text{ des melons du maraîcher B sont conformes})$$

$$P(900 \leq M_B \leq 1200) = 0,85 \Leftrightarrow P\left(\frac{900 - 1050}{\sigma} \leq \frac{M_B - 1050}{\sigma} \leq \frac{1200 - 1050}{\sigma}\right) = 0,85$$

$$P\left(\frac{-150}{\sigma} \leq Z \leq \frac{150}{\sigma}\right) = 0,85 \Leftrightarrow 1 - 2P\left(Z \geq \frac{150}{\sigma}\right) = 0,85 \Leftrightarrow 2P\left(Z \geq \frac{150}{\sigma}\right) = 0,15$$

$$\Leftrightarrow P\left(Z \geq \frac{150}{\sigma}\right) = 0,075 \text{ d'où } P\left(Z \leq \frac{150}{\sigma}\right) = 0,925$$

A la calculatrice, on trouve:

$$\frac{150}{\sigma} \approx 1,44 \Leftrightarrow \sigma \approx 104 \quad (\text{arrondi à l'unité})$$

3) Le détaillant doute de l'affirmation du maraîcher C.

Il constate que sur 400 melons livrés par ce maraîcher au cours d'une semaine, seulement 294 sont conformes.

Le maraîcher C affirme, quant à lui, que 80 % des melons de sa production sont conformes.

$n = 400 \geq 30$ ;  $np = 320 \geq 5$  et  $n(1-p) = 80 \geq 5$ : les conditions sont réunies

$$I = \left[ p - 1,96 \times \sqrt{\frac{p(1-p)}{n}}; p + 1,96 \times \sqrt{\frac{p(1-p)}{n}} \right] = \left[ 0,8 - 1,96 \times \sqrt{\frac{0,8 \times 0,2}{400}}; 0,8 + 1,96 \times \sqrt{\frac{0,8 \times 0,2}{400}} \right]$$

$$I = [0,7608; 0,8392]$$

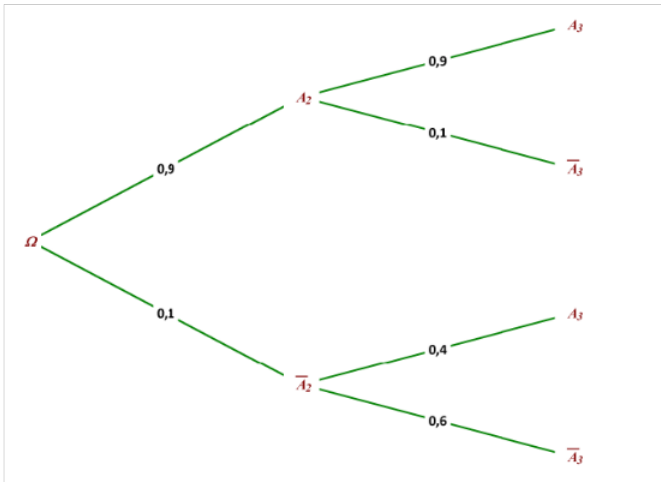
$$f_{obs} = \frac{294}{400} = 0,735$$

On constate que:  $f_{obs} \notin I$

Conclusion: le détaillant a raison de douter de l'affirmation du maraîcher C.

**Partie B:**

1)a) Arbre pondéré:



1)b) Formule Probabilités totales:

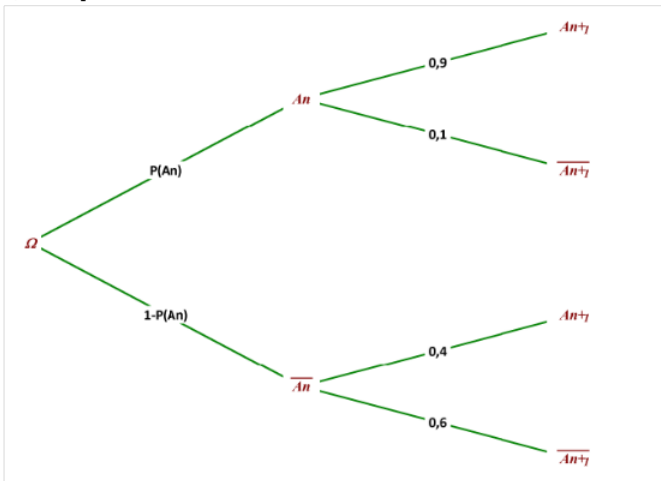
$$P(A_3) = P(A_2 \cap A_3) + P(A_3 \cap A_2^-) = P(A_2) \times P_{A_2}(A_3) + P(A_2^-) \times P_{A_2^-}(A_3)$$

$$P(A_3) = 0,9 \times 0,9 + 0,1 \times 0,4 = 0,85$$

1)c) On calcule:  $P_{A_3}(A_2) = ?$

$$P_{A_3}(A_2) = \frac{P(A_2 \cap A_3)}{P(A_3)} = \frac{P(A_2) \times P_{A_2}(A_3)}{P(A_3)} = \frac{0,9 \times 0,9}{0,85} \approx 0,95$$

2) Arbre pondéré:



Formule Probabilités totales:

$$P(A_{n+1}) = P(A_n \cap A_{n+1}) + P(A_{n+1} \cap A_n^-) = P(A_n) \times P_{A_n}(A_{n+1}) + P(A_n^-) \times P_{A_n^-}(A_{n+1})$$

$$P(A_{n+1}) = p_n \times 0,9 + (1-p_n) \times 0,4 = 0,9 p_n + 0,4 - 0,4 p_n = 0,5 p_n + 0,4$$

$$\text{D'où } p_{n+1} = 0,5 p_n + 0,4$$

3)a)  $n \geq 1, p_n \geq 0,8$

Par récurrence:

Par hypothèse,  $p_1 = 1$

- Initialisation:  $p_1 > 0,8$  , la propriété est vraie au rang  $n = 1$

- Hérité: on suppose la propriété vraie au rang  $n$  et on doit démontrer qu'elle est vraie au rang  $n+1$

$$p_n > 0,8 \Leftrightarrow 0,5 p_n > 0,5 \times 0,8 = 0,4 \Leftrightarrow 0,5 p_n + 0,4 > 0,4 + 0,4 = 0,8$$

$$p_{n+1} > 0,8$$

La propriété est vraie au rang  $n+1$

- Conclusion: Pour tout  $n \geq 1, p_n > 0,8$

$$3)b) p_{n+1} - p_n = 0,5 p_n + 0,4 - p_n = -0,5 p_n + 0,4 = -0,5 \left( p_n - \frac{0,4}{0,5} \right) = -0,5 (p_n - 0,8)$$

On  $p_n > 0,8$  donc  $p_n - 0,8 > 0$

Conclusion:  $p_{n+1} - p_n = -0,5 (p_n - 0,8) < 0$  , la suite  $(p_n)$  est décroissante.

3)c) La suite  $(p_n)$  es décroissante et minorée par  $0,8$  donc elle est convergente.

4)  $n \geq 1, v_n = p_n - 0,8$

$$v_{n+1} = p_{n+1} - 0,8 = 0,5 p_n + 0,4 - 0,8 = 0,5 p_n - 0,4 = 0,5 \left( p_n - \frac{0,4}{0,5} \right)$$

$$v_{n+1} = 0,5 (p_n - 0,8)$$

$$v_{n+1} = 0,5 v_n$$

La suite  $(v_n)$  est une suite géométrique de raison  $q = 0,5$  et de premier terme  $v_1 = p_1 - 0,8 = 0,2$

4b) Expression de  $v_n$  en fonction de  $n$ :  $v_n = v_1 \times q^{n-1} = 0,2 \times (0,5)^{n-1}$

Expression de  $p_n$  en fonction de  $n$ :  $v_n = p_n - 0,8 \Leftrightarrow p_n = v_n + 0,8$

On obtient:  $p_n = 0,2 \times (0,5)^{n-1} + 0,8$

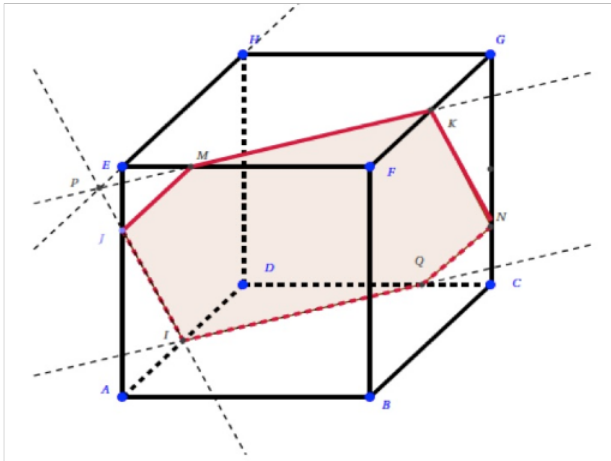
4c)  $p_n = 0,8 + 0,2 \times (0,5)^{n-1}$ , on a  $0 < q = 0,5 < 1$  d'où  $\lim_{n \rightarrow +\infty} q^n = 0$  donc  $\lim_{n \rightarrow +\infty} (0,2 \times (0,5)^{n-1}) = 0$

Conclusion:  $\lim_{n \rightarrow +\infty} p_n = 0,8$

## Exercice 4:

### Partie A:

1) Figure:



Le point P est l'intersection de  $(IJ)$  et de  $(EH)$

2) L'intersection du plan  $(IJK)$  et du plan  $(EFG)$  est la droite  $(PK)$  puisque :

- Le point P est le point d'intersection du plan  $(IJK)$  et de la droite  $(EH)$  incluse dans le plan  $(EFG)$  ;
- Le point K appartient aussi aux deux plans.

### Partie B:

1a)  $I \left( 0 ; \frac{1}{2} ; 0 \right)$  ;  $J \left( 0 ; 0 ; \frac{3}{4} \right)$  et  $K \left( 1 ; \frac{1}{2} ; 1 \right)$

1b)  $\vec{n} (4 ; a ; b)$  est orthogonal à  $\vec{IJ}$  et  $\vec{IK}$

$$\vec{n} \cdot \vec{IJ} = 0 \Leftrightarrow \begin{pmatrix} 4 \\ a \\ b \end{pmatrix} \cdot \begin{pmatrix} 0 \\ -\frac{1}{2} \\ \frac{3}{4} \end{pmatrix} = -\frac{1}{2} a + \frac{3}{4} b = 0$$

$$\vec{n} \cdot \vec{IK} = 0 \Leftrightarrow \begin{pmatrix} 4 \\ a \\ b \end{pmatrix} \cdot \begin{pmatrix} 1 \\ 0 \\ 1 \end{pmatrix} = 4 + b = 0 \Leftrightarrow b = -4$$

$$-\frac{1}{2} a + \frac{3}{4} b = 0 \text{ et } b = -4 \text{ d'où } -\frac{1}{2} a - 3 = 0 \text{ soit } a = -6$$

Conclusion:  $\vec{n} (4 ; -6 ; -4)$

1c) Equation cartésienne du plan  $(IJK)$  est:

Vecteur normal:  $\vec{n} (a ; b ; c)$  ; équation cartésienne:  $ax + by + cz + d = 0$

Donc comme  $\vec{n} (4 ; -6 ; -4)$  alors l'équation est de la forme:  $4x - 6y - 4z + d = 0$

Trouvons d:

$I \in (IJK)$  donc ses coordonnées vérifient cette équation:

$$4x_I - 6y_I - 4z_I + d = 0 \Leftrightarrow 4 \times 0 - 6 \times \frac{1}{2} - 4 \times 0 + d = 0 \Leftrightarrow -3 + d = 0 \Leftrightarrow d = 3$$

Conclusion: Une équation du plan  $(IJK)$  est :  $4x - 6y - 4z + 3 = 0$

2a) La droite  $(CG)$  passe par le point  $C (1 ; 1 ; 0)$  et a pour vecteur directeur  $\vec{CG} (0 ; 0 ; 1)$

Une représentation paramétrique de la droite  $(CG)$  est:  $\begin{cases} x = x_C \\ y = y_C \\ z = z_C + 1k \end{cases}, k \in \mathbb{R}$  d'où  $\begin{cases} x = 1 \\ y = 1 \\ z = 1 + k \end{cases}, k \in \mathbb{R}$

2b) N point d'intersection du plan  $(IJK)$  et de la droite  $(CG)$

$$\begin{cases} x = 1 \\ y = 1 \\ z = 1 + k \\ 4x - 6y - 4z + 3 = 0 \end{cases} \Leftrightarrow \begin{cases} x = 1 \\ y = 1 \\ z = 1 + k \\ 4 \times 1 - 6 \times 1 - 4 \times (1 + k) + 3 = 0 \end{cases} \Leftrightarrow \begin{cases} x = 1 \\ y = 1 \\ z = 1 + k \\ 4 - 6 - 4 - 4k + 3 = 0 \end{cases} \Leftrightarrow \begin{cases} x = 1 \\ y = 1 \\ z = 1 + k \\ k = \frac{1}{4} \end{cases}$$

Le point N a pour coordonnées:

$$N\left(\hat{1}; \hat{1}; \frac{\hat{1}}{4}\right)$$

2)c) Voir figure Partie A

**Partie C:**

La droite (FR) est orthogonale au plan (IJK) donc le vecteur normal au plan (IJK) est le vecteur directeur de la droite (FR)

Le point F (1 ; 0 ; 1) appartient à (FR)

Représentation paramétrique de la droite (FR) est: 
$$\begin{cases} x = x_F + 4t \\ y = y_F - 6t \\ z = z_F - 4t \end{cases}, t \in \mathbb{R} \text{ d'où } \begin{cases} x = 1 + 4t \\ y = -6t \\ z = 1 - 4t \end{cases}, t \in \mathbb{R}$$

Cherchons les coordonnées du point R:

$$\begin{cases} x = 1 + 4t \\ y = -6t \\ z = 1 - 4t \end{cases} \Leftrightarrow \begin{cases} x = 1 + 4t \\ y = -6t \\ z = 1 - 4t \end{cases} \Leftrightarrow \begin{cases} x = 1 + 4t \\ y = -6t \\ z = 1 - 4t \\ 4x - 6y - 4z + 3 = 0 \end{cases} \Leftrightarrow \begin{cases} x = 1 + 4t \\ y = -6t \\ z = 1 - 4t \\ 4(1 + 4t) - 6(-6t) - 4(1 - 4t) + 3 = 0 \end{cases} \Leftrightarrow \begin{cases} x = 1 + 4t \\ y = -6t \\ z = 1 - 4t \\ 4 + 16t + 36t - 4 + 16t + 3 = 68t + 3 = 0 \end{cases}$$

$$\Leftrightarrow \begin{cases} x = 1 + 4t \\ y = -6t \\ z = 1 - 4t \\ t = \frac{-3}{68} \end{cases} \Leftrightarrow \begin{cases} x = 1 + 4 \times \left(\frac{-3}{68}\right) = \frac{14}{17} \\ y = -6 \times \left(\frac{-3}{68}\right) = \frac{9}{34} \\ z = 1 - 4 \times \left(\frac{-3}{68}\right) = \frac{20}{17} \\ t = \frac{-3}{68} \end{cases}$$

R a pour coordonnées:  $R\left(\frac{14}{17}; \frac{9}{34}; \frac{20}{17}\right)$

Vérifions si R est à l'intérieur du cube: 
$$\begin{cases} x_R = \frac{14}{17} < 1 \\ y_R = \frac{9}{34} < 1 \\ z_R = \frac{20}{17} > 1 \end{cases}$$

Conclusion:  $z_R > 1$  donc le point R n'est pas à l'intérieur du cube